

Naam: _____

Datum: _____

Hier oefen ik op:

- het schrijven van woorden op aai, ooi, oei, ui en ij gevolgd door e(n);
- het schrijven van woorden op -ng of -nk.

1

Woorden die groeien

- Vervang elk cijfer door de juiste letter.
- Schrijf de woorden goed op.

1 = a 2 = o 3 = i 4 = e 5 = r 6 = n 7 = m 8 = d 9 = f

7 2 2 3 4 5

mooier _____

5 2 4 3 4 5

roeier _____

9 5 1 1 3 4

fraaie _____

7 1 1 3 4 6

maaien _____

8 2 2 3 4 5

dooier _____

5 2 4 3 4 6

roeien _____

2

Van één naar meer

- Schrijf de zinnen opnieuw.
- Het woord in vetjes schrijf je in het meervoud.

Ik **snoei** de struiken in de tuin.

Wij **snoeien** de struiken in de tuin.

Sam kijkt naar de **kraai** in de tuin.

Sam kijkt naar de **kraaien** in de tuin.

Mama doet **ui** in de soep.

Mama doet uien in de soep.

Ik hoor het zoemen van de **bij**.

Ik hoor het zoemen van de bijen.

3

De slang is slank

8

- Benoem de prent.
- Schrijf het woord op.



tank



slang



bank



ring



tang



pink

Dit vindt de juf/de meester van mijn taak: _____



Even opfrissen

Naam: _____

Klas: _____ Datum: _____

1 Klinkers zoeken in het alfabet

Kleur in het alfabet de klinkers geel.

A B C D E F G H I J K L M N O P Q R S T U V W X Y Z

Schrijf hieronder de klinkers nog eens op.

a, e, i, o, u _____

2 Klinkers zoeken in woorden

Kleur in elk woord de klinkers geel.



3 Een klinker kiezen

Lees de zin

Vul de ontbrekende klinker of klinkers aan.

bende spelen zingen

De muziek klinkt heel mooi. Ik hoor een gitaar, trompet en de stem van heks Pipa.

In het toverbos dansen de heksen rond het vuur.

Ken jij alle klikers en medeklinters van het alfabet?

Hoe deed ik de taak?



Ik denk



Juf/Meester vindt

1 Vul in.

$3T + 2E = 30 + 2 = 32$

$8T - 3E = 80 - 3 = 77$

$5T + 6E = 50 + 6 = 56$

$4T - 2E = 40 - 2 = 38$

$8T + 4E = 80 + 4 = 84$

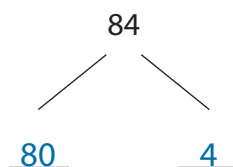
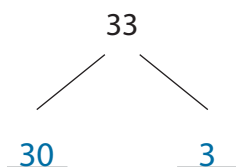
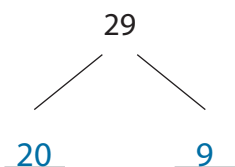
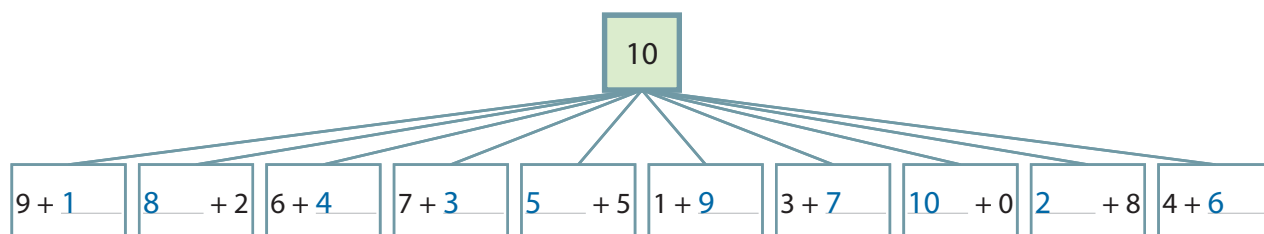
$7T - 5E = 70 - 5 = 65$

$5E + 6T = 5 + 60 = 65$

$5T - 9E = 50 - 9 = 41$

$1E + 9T = 1 + 90 = 91$

$6T - 4E = 60 - 4 = 56$

2 Splits in T en E.3 Vul de vrienden van 10 in.4 Vul in.

$7 + 4 = 11$

$8 + 5 = 13$

$8 + 6 = 14$

$9 + 4 = 13$

$9 + 5 = 14$

$7 + 6 = 13$

$8 + 4 = 12$

$8 + 8 = 16$

$6 + 6 = 12$

$6 + 5 = 11$

5 Vul in.

$14 - 7 = 7$

$14 - 5 = 9$

$15 - 8 = 7$

$15 - 7 = 8$

$11 - 5 = 6$

$11 - 4 = 7$

6 Kleur de bewerkingen waarbij je over de brug gaat.

$7 + 4$	$13 - 5$	$15 + 3$	$12 - 6$	$16 + 5$	$15 - 3$	$6 + 2$	$16 - 9$	$9 + 8$	$18 - 3$
---------	----------	----------	----------	----------	----------	---------	----------	---------	----------

7 Vul de som in.



$20 + 10 = 30$

$40 + 40 = 80$

$50 + 30 = 80$

$20 + 1 = 21$

$40 + 4 = 44$

$50 + 3 = 53$

$1 + 20 = 21$

$4 + 40 = 44$

$3 + 50 = 53$

$21 + 10 = 31$

$44 + 40 = 84$

$53 + 30 = 83$

8 Vul het verschil in.

$30 - 10 = 20$

$80 - 40 = 40$

$80 - 30 = 50$

$30 - 1 = 29$

$80 - 4 = 76$

$80 - 3 = 77$

$35 - 10 = 25$

$84 - 40 = 44$

$89 - 30 = 59$

$35 - 1 = 34$

$84 - 2 = 82$

$89 - 6 = 83$

9 Onderstreep in de eerste twee kolommen wat je eerst optelt.

Vul de som in.



$30 + 20 + 2 = 52$

$33 + 20 + 2 = 55$

$33 + 22 = 55$

$50 + 10 + 4 = 64$

$54 + 10 + 4 = 68$

$54 + 14 = 68$

$40 + 30 + 5 = 75$

$42 + 30 + 5 = 77$

$42 + 34 = 76$

SORTEER!



■ Waar hoort het afval thuis? Omkring in de juiste kleur.

PMD

GLAS

PAPIER EN KARTON

GFT

