

Naam: \_\_\_\_\_

Datum: \_\_\_\_\_

### Hier oefen ik op:

- woorden schrijven met een doffe klank in be-, ge-, ver-, -el, -en en -er;
- woorden schrijven die eindigen op een klinker.

## 1 Graag traag vandaag

14

- De stukjes met de doffe klank zijn verdwaald.
- Streep het foute stukje door.
- Schrijf de woorden opnieuw met het goede stukje: be, ge of ver.

gezoek

vervaar

bezond

~~bezoek/verzoek~~ gevaar \_\_\_\_\_

gezond \_\_\_\_\_

beschreeuw

bedraai

getraag

geschreeuw \_\_\_\_\_

verdraai \_\_\_\_\_

vertraag \_\_\_\_\_

## 2 Naar de winkel

- Luister naar het einde van elk woord.
- Kleur het stukje dat je hoort.
- Schrijf het woord op.



el

er

gieter \_\_\_\_\_



el

er

vlinder \_\_\_\_\_



el

er

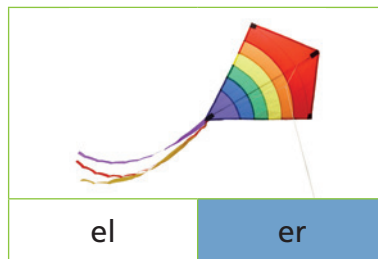
sleutel \_\_\_\_\_



el

er

wortel \_\_\_\_\_



el

er

vlieger \_\_\_\_\_



el

er

dokter \_\_\_\_\_

## 3

## Zo, schrijf maar mee

- Vul in elke zin het goede woord in.
- Kies woorden uit het kader.

vee – twee – ree – euro – sla – slee – auto – zee

Ik ga nooit met de **auto** naar school.

Mijn oma woont aan **zee**.

Wij planten **sla** in onze tuin.

Met een **slee** kun je over de sneeuw glijden.

Een **ree** is een soort hert.

Het **vee** staat in de wei.

Ik stop het stuk van een **euro** in mijn spaarpot.

Wij staan per **twee** in de rij.

Dit vindt de juf/de meester van mijn taak: \_\_\_\_\_

\_\_\_\_\_

\_\_\_\_\_

\_\_\_\_\_



1 Kleur de flessen rechts van de streep die je kunt vullen.

A		
B		
C		<p>keuze</p> <p><math>(6 \times 1\ell) + (4 \times 0,5\ell)</math>  <math>(5 \times 1\ell) + (6 \times 0,5\ell)</math></p>

2 Is er in deze flessen water genoeg om de emmer te vullen?


neen

3 Kleur de flessen van een halve liter die je kunt vullen met de inhoud van de flessen van 1 liter.

4 Kleur de flessen achter de streep die je kunt vullen met de inhoud van de fles van anderhalve liter.

keuze

$(1 \times 1\ell) + (1 \times 0,5\ell)$   
 ofwel  $(3 \times 0,5\ell)$



**5** Vul in met **ja** of **neen** !

	ja of neen?
In een koffiekop kan een halve liter koffie.	<b>neen</b>
In een fles van 1 liter kan tweemaal een halve liter.	<b>ja</b>
Er kunnen 8 wijnglazen gevuld worden met 1 liter.	<b>ja</b>
1 liter is meer dan een halve liter.	<b>ja</b>
2 halve liter is meer dan één liter.	<b>neen</b>
In een volle emmer kunnen 20 halve liter.	<b>ja</b>

**6** Anneke geeft een feestje.  
 Ze nodigt 7 vriendjes uit.  
 Ze schat dat iedereen ongeveer een halve liter limonade zal drinken.

Hoeveel kinderen zijn er op het feest?  **$7 + 1 = 8$**   
 Hoeveel flessen van 1 liter moet Anneke kopen? **4 flessen.**

**7** Verbind de kaartjes waarop dezelfde inhoud staat!

twee halve liter	<input type="checkbox"/>	1 liter
de helft van 1 liter	<input type="checkbox"/>	een halve liter
anderhalve liter	<input type="checkbox"/>	3 halve liter
	<input type="checkbox"/>	2 liter



## 7 dagen op een rij, dat is ... een week









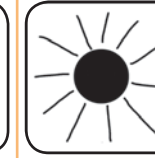
### Dit kun je al

Je kunt de verschillende delen van een dag benoemen: ochtend, voormiddag, middag, namiddag, avond, nacht. Je kunt vertellen wat er in de loop van een dag gebeurt.



### Dit kun je straks

Je weet dat een week zeven dagen telt: maandag, dinsdag, woensdag, donderdag, vrijdag, zaterdag, zondag. Je kunt vertellen wat er op die dagen gebeurt.

maandag	dinsdag	woensdag	donderdag	vrijdag	zaterdag	zondag
						

1 Nummer de dagen in de juiste volgorde.

1	maandag
3	woensdag
5	vrijdag
2	dinsdag
6	zaterdag
7	zondag
4	donderdag

Schrijf de dagen in de juiste volgorde.

1	... maandag ...
2	... dinsdag ...
3	... woensdag ...
4	... donderdag ...
5	... vrijdag ...
6	... zaterdag ...
7	... zondag ...



2 Welke dag past niet in de rij? Kleur het cirkeltje.

zondag maandag zaterdag dinsdag

vrijdag zaterdag zondag dinsdag

maandag woensdag donderdag vrijdag

3 Welke dag past in de rij? Vul aan.

maandag dinsdag woens- dag donder- dag

zondag maan- dag dinsdag woensdag

dins- dag woensdag donderdag vrijdag

vrijdag zaterdag zondag maan- dag